
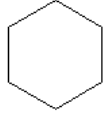
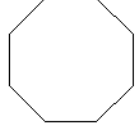


## Φύλλο Ενδεικτικών απαντήσεων του Φύλλου Εργασίας 2

### Δραστηριότητα 2

A) επανάλαβε 5 [μπροστά 100 δεξιά 72 ]	
B) επανάλαβε 6 [μπροστά 100 δεξιά 60 ]	
Γ) επανάλαβε 8 [μπροστά 100 δεξιά 360 / 8 ]	

### Δραστηριότητα 5

ΟΤΚ

επανάλαβε 5 [ επανάλαβε 4 [ μπ 60 δε 90] δε 72]

### Προτεινόμενη Άσκηση για το σπίτι

Το σχήμα που εικονίζεται δίπλα έχει δημιουργηθεί από 5 ίσα τρίγωνα με κοινή κορυφή. Κάθε τρίγωνο έχει πλευρά 100 και είναι στραμμένο σε σχέση με το προηγούμενο κατά σταθερή κάθε φορά, γωνία ίση με 30 μοίρες. Δώστε τις κατάλληλες εντολές για να το δημιουργήσετε χρησιμοποιώντας διπλή επανάληψη.

